


The background features a bright blue sky with three white, stylized clouds at the top. Below the text, there is a dense layer of overlapping, semi-transparent light blue circles that create a soft, cloud-like effect.

KHỞI ĐỘNG

TRÒ CHƠI

GIỚI CỬU



NÔNG TRẠI!

Điền từ thích hợp vào chỗ chấm

Cái nồi đựng được cái ly

nhiều nước hơn

ít nước hơn



Điền từ thích hợp vào chỗ chấm

Cái nồi đựng được cái xô

nhiều nước hơn

ít nước hơn



Điền từ thích hợp vào chỗ chấm

Xô màu xanh đựng được xô màu cam

nhiều nước hơn

ít nước hơn





Xô màu xanh đựng được nhiều hơn
xô màu cam bao nhiêu?



Thứ ngày tháng năm


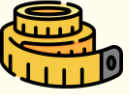
BÀI 16

TOÁN

Lit



YÊU CẦU CẦN ĐẠT


-  Nhận biết, cảm nhận về dung tích (so sánh lượng nước chứa trong đồ vật), về biểu tượng đơn vị đo lít.
-  Biết đọc, viết đơn vị đo lít.



KHAM PHÁ



a)




Hình dạng bình và cốc như thế nào?

Cái bình to hơn cái cốc.

**Cái nào đựng được nhiều nước hơn?
Cái nào đựng được ít nước hơn?**

**Bình đựng nhiều nước hơn cốc
Cốc đựng ít nước hơn bình**



Lượng nước ở bình rót ra được mấy cốc?


Được 4 cốc

Vậy lượng nước trong bình như thế nào với lượng nước ở 4 cốc?

Lượng nước trong bình bằng lượng nước ở 4 cốc.

▶ **Lít** là một đơn vị đo dung tích

▶ **Lít** viết tắt là **l**, đọc là lít



Bình nước 19 lít



Bình nước 6 lít



Bình nước 1 lít





HOẠT ĐỘNG

1

Quan sát tranh rồi chọn câu đúng.

Đổ hết nước từ ca 1 l được đầy một chai và một cốc (như hình vẽ).

- A. Chai đựng 1 l nước.
- B. Chai đựng ít hơn 1 l nước.
- C. Chai đựng nhiều hơn 1 l nước.



2

SỐ?



3 l



2 l



10 l



5 l



20 l

3 SỐ?

Rót hết nước từ bình A và bình B được các cốc nước (như hình vẽ).



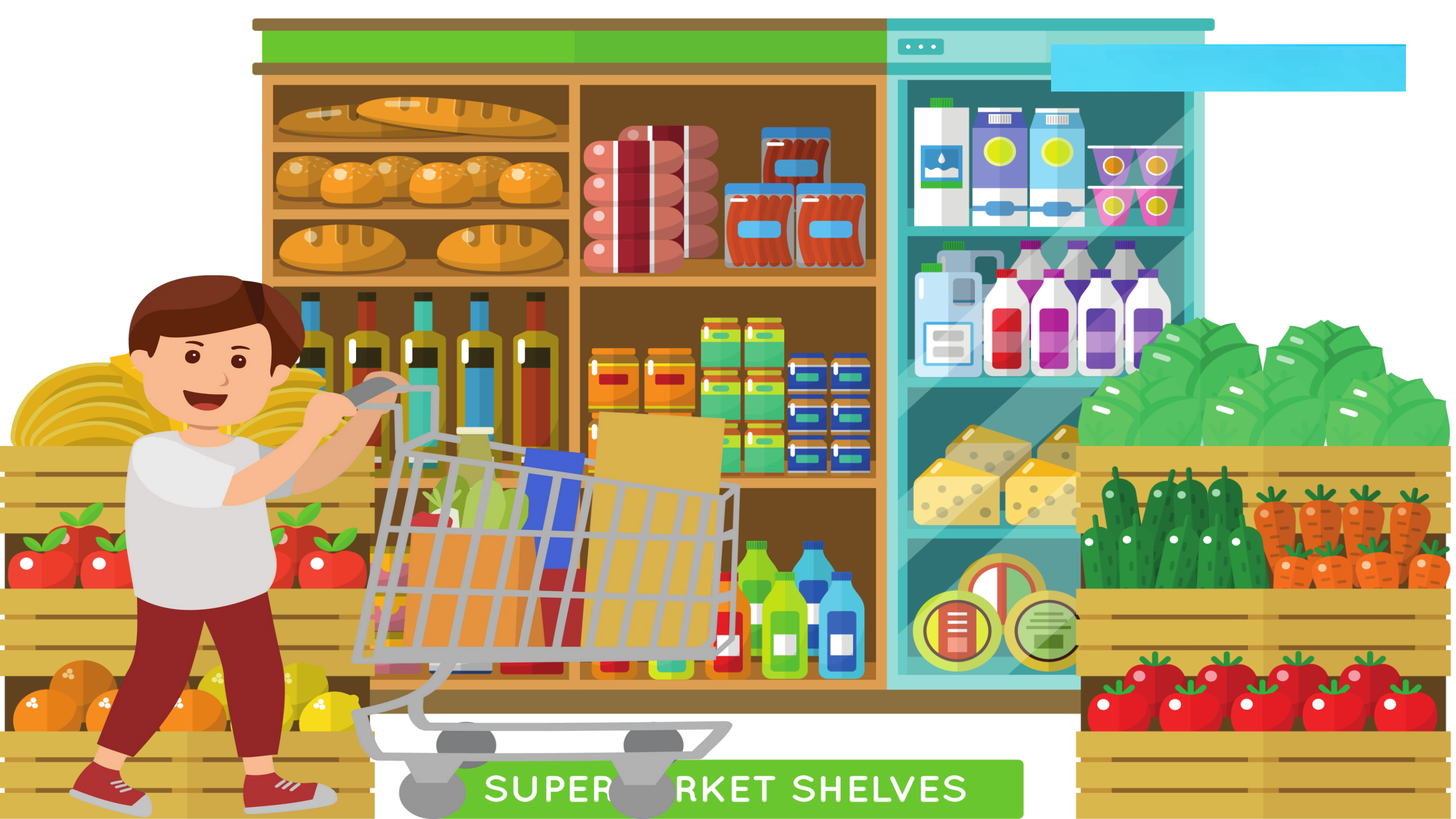
- a) Lượng nước ở bình A là **4** cốc. Lượng nước ở bình B là **6** cốc.
- b) Lượng nước ở bình B nhiều hơn lượng nước ở bình A là **2** cốc.



VẬN DỤNG

Cùng theo chân Nam đi siêu thị xem mua
được những đồ uống gì nhé!





SUPERMARKET SHELVES

**MỖI NGÀY EM CẦN UỐNG
BAO NHIÊU LÍT NƯỚC ?**



4

chai 500ml

2

lít nước

1

ngày

Nước rất cần thiết cho đời sống hằng ngày của chúng ta. Các em cần biết sử dụng nước một cách tiết kiệm và cung cấp đủ cho cơ thể 1 ngày 2 lít nước.





TẠM BIỆT VÀ
HẸN GẶP LẠI